

موقع عيون البصائر التعليمي

الجمهورية الجزائرية الديمقراطية الشعبية	
وزارة التربية الوطنية	ثانوية اوس بخالد - سيدي خالد
امتحان بكالوريا التعليم الثانوي التجريبي	
الشعبة: أداب وفلسفة	المدة: 04 سا و 30 د
اختبار في مادة: التاريخ والجغرافيا	

على المترشح أن يختار أحد الموضوعين الآتيين

الموضوع الأول من (الصفحة 01 الى الصفحة 04)

التاريخ:

الجزء الأول: (06ن)

" قال جورج مارشال كاتب الدولة الخارجية الأمريكية (إن الحالة العالمية خطيرة ... فلقد خلفت الحرب في أوروبا الدمار حتى أن حاجياتها أصبحت أكبر من قدراتها على الدفع)... اما خطة ترومان هي عبارة عن خطة أعدّها الرئيس الأمريكي السابق ترومان عرضها على الحزب الشيوعي اليوناني والعناصر اليسارية في تركيا... ولم يتأخر المعسكر الشرقي بالرد على هذه المشاريع بإنشاء مكتب الكومنفرم وتدعيم حركات التحرر ". من مواضيع البكالوريا دورة جوان 1982م

المطلوب:

1/ عرف ما تحته سطر

2/ حلل قول جورج مارشال الذي بين قوسين ماذا تستنتج؟

3/ على خريطة أوروبا المرفقة ص 03 عين دولتين استفادت من مشروع مارشال ودولتين استفادت من مشروع ترومان

الجزء الثاني: (04ن)

" عرف المعسكر الشيوعي في نهاية الثمانينات وبداية التسعينات تغيرات جذرية وهزات عميقة مست مختلف الميادين نتج عنها زوال الاتحاد السوفياتي وتفككه وبروز نظام دولي جديد احادي القطبية بقيادة الولايات المتحدة الامريكية"

المطلوب: انطلاقا من الفقرة واعتمادا على ما درست اكتب مقالا تاريخيا تبين فيه

1/ مظاهر انهيار المعسكر الشيوعي

2/ الأهداف الخفية للنظام الدولي الجديد

الصفحة: 01 من 08

الجزء الأول: (06ن)

" ان الامضاء على اتفاق الشراكة مع الاتحاد الأوروبي الذي تأسس بموجب معاهدة روما 1957 وانضمام الجزائر لمنظمة التجارة العالمية سيؤدي حتما الى انفتاح كبير لحدودنا الاقتصادية ، مما يفرض علينا تأهيل اداتنا الإنتاجية لتحضير مؤسساتنا لمواجهة المنافسة الخارجية وحياسة مواقع في الأسواق العالمية وتشجيع الاستثمارات وتوسيع رقعته في البلاد" المرجع: الكتاب المدرسي ص 169

المطلوب:

1/ اشرح ما تحته سطر

2/ اليك جدول بين الدول العشرة انتاجا للبترول في العالم لسنة 2010م

الدول	السعودية	روسيا	و م أ	ايران	الصين	كندا	المكسيك	الامارات	الكويت	فنزويلا
كمية الانتاج	10.78	9.81	8.51	4.17	3.79	3.35	3.18	3.04	2.74	2.64

المصدر: موسوعة شبكة المعرفة الريفية 2010

الوحدة/ مليون برميل

أ/ مثل الجدول بواسطة أعمدة بيانية بمقياس رسم

1 اسم ← 02 مليون برميل

1 اسم ← عمود

ب/ علق على الرسم .ماذا تستنتج

3/ على خريطة العالم المرفقة ص 04 عين الدول المؤسسة لمنظمة الأوبك المذكورة في الجدول

الجزء الثاني: (04ن)

" تقف في وجه التنمية في العالم المتخلف معوقات طبيعية واقتصادية، افشلت استراتيجياته التنموية رغم الجهود المبذولة للخروج من دائرة التخلف"

المطلوب: انطلاقا من الفقرة واعتمادا على ما درست اكتب مقالا جغرافيا تبين فيه

1/ المعوقات السياسية والاقتصادية للتنمية في دول الجنوب

2/ الحلول الممكنة للخروج من دائرة التخلف

التاريخ:

الجزء الأول: (06ن)

"... يمكن اعتبار مؤتمر باندونغ أول انتصار دولي لدبلوماسية جبهة التحرير الوطني ... وأنه أوصى بعرض القضية الجزائرية على هيئة الأمم المتحدة ... غداة هجوم جيش التحرير الوطني على الشمال القسنطيني ... أعقبه انسحاب الوفد الفرنسي من الجلسة احتجاجا على هذا القرار ... نتيجة لصدى الذي حققته القضية الجزائرية على الصعيد الدولي ورغبة مینها في تفعيل العمل الدبلوماسي، أعلنت جبهة التحرير الوطني عن تأسيس حكومة مؤقتة بالمنفى، كمرحلة جديدة في مسار الكفاح المسلح، حيث كان هذا الحدث بمثابة قفزة نوعية في دبلوماسية جبهة التحرير الوطني .."

المرجع: مجلة الجيش/نوفمبر 2011 العدد 580 ، ص 31 .

المطلوب:

1/ عرف ما تحته سطر في النص

2/ حدّد تواريخ الأحداث التالية والواردة في النص: - مؤتمر باندونغ - هجوم جيش التحرير الوطني على الشمال

القسنطيني - تأسيس الحكومة المؤقتة - تأسيس اللجنة الثورية للوحدة والعمل

3/ على خريطة الجزائر المرفقة في الصفحة 07 عين الولايات المنبثقة عن مؤتمر الصومام مع اسنادها لقادتها

الجزء الثاني: (04ن)

أدركت السلطة الفرنسية أهمية الدعم الإقليمي والدولي في نجاح الثورة الجزائرية وازدياد فعاليتها، فاستخدمت

كل الوسائل للحد من هذا الدعم.

المطلوب: انطلاقا من العبارة واعتمادا على ما درست، اكتب مقالا تاريخيا تبين فيه:

1/ الاجراءات التي قامت بها السلطات الفرنسية لعزل الثورة عن الخارج.

2/ رد فعل الثورة الجزائرية على هذه الاجراءات

" إن الوزن الديمغرافي والاهتمام الفعلي لدول منطقة شرق وجنوب شرق آسيا ووفرة اليد العاملة المؤهلة والبحث عن الربح والاندماج في الاقتصاد الرأسمالي، كلها مقومات ساهمت في ابراز المنطقة كقطب اقتصادي أساسي في العالم خلال القرن 21 م حيث أصبحت تمثل دول صناعية جديدة "

المرجع: الكتاب المدرسي، السنة الثالثة ثانوي ص 6

1/ اشرح ما تحته خط في النص

2- إليك جدولاً يمثل نسب صادرات وواردات الاتحاد الأوروبي من مختلف المواد لسنة 2009:

الواردات %	الصادرات %	المواد
6.2	5.7	مواد غذائية
3.9	2.5	مواد أولية
24.2	5.3	طاقة
9.4	17.9	مواد كيميائية
28.5	41.5	آلات ووسائل النقل
27.8	27.1	مواد أخرى

Source Eurostat 2009

أ- مثل نسب الجدول بدائرتين نسبيتين بمقياس رسم نق = 04 سم

ب- علق على الرسم. ماذا تستنتج

3/ على خريطة أوروبا المرفقة في الصفحة 08 وقع الدول المؤسسة للاتحاد الأوروبي

الجزء الثاني: (04ن)


تعتبر منطقة شرق وجنوب شرق آسيا فضاء وقوة ديموغرافية واقتصادية كبيرة، تمّ فيها تنظيم شبكات كبرى للمبادلات التجارية على المستوى العالمي.

المطلوب: انطلاقاً من الفقرة واعتماداً على ما درست، اكتب مقالا جغرافياً تبين فيه:

1- العوامل الطبيعية التي ساهمت في تطور اقتصاد المنطقة.

2- مكانة المنطقة في الاقتصاد العالمي.


الإجابة النموذجية لامتحان البكالوريا التجريبي شعبة الآداب والفلسفة والتسيير والاقتصاد دورة ماي 2018

العلامة		عناصر الإجابة (الموضوع الأول) (التاريخ)	محاور الموضوع
المجموع	مجزأة		
02	0.5 0.5 0.5 0.5	<p>جورج مارشال : وزير خارجية الو م أ في عهد هاري ترومان 1947-1949. صاحب مشروع مارشال 1947.</p> <p>هاري ترومان: رئيس أمريكي 1945 - 1952 أمر بإلقاء القنبلة الذرية على اليابان. اعترف بدولة إسرائيل. صاحب مبدأ المساعدات لتركيا واليونان.</p> <p>حركات التحرر : ظاهر سياسية و عسكرية شهدها العام بعد الحرب العالمية 2 - 1965 - متمثلة في كفاح ونضال الشعوب المستعمرة ضد الوجود الاستعماري مما أسهم في تراجع وتصفية الاستعمار التقليدي في أغلب المستعمرات .</p> <p>مكتب الكومنفرورم : هو مكتب الإعلام الشيوعي تأسس سنة 1947 ، هدفه نشر الأفكار الشيوعية و تشويه الأفكار الليبرالية.</p>	1/ تعريف ما تحته سطر في النص
02	0.5 * 04	<p>* مشروع مارشال في 05 جوان 1947: مساعدة مالية قيمتها حوالي 13 مليار دولار عرضها جورج مارشال وزير خارجية الو م ا على الدول الأوروبية والاتحاد السوفياتي من أجل تحقيق الأهداف التالية :- الظاهرية: إعادة اعمار أوروبا وإنعاشها اقتصاديا والتخلص من الآثار السلبية ح ع 2 - الخفية : مقاومة المد الشيوعي في أوروبا - ربط الاقتصاد الأوربي بالاقتصاد الأمريكي تثبيت الرأسمالية في أوروبا - الهيمنة و الوصاية الأمريكية على أوروبا - دعم وإنعاش الشركات الأمريكية المفلسة</p>	2/ الأهداف الظاهرية والخفية لمشروع مارشال
02	0.5 * 04	 <p>مشروع مارشال</p> <p>مشروع ترومان</p>	3 التوقيع على الخريطة استفادت من مشروع مارشال 2 مشروع ترومان
04	0.5 1.5 04 1.5	<p>المقدمة: التعريف بالمعسكر الشيوعي</p> <p>1- مظاهر انهيار المعسكر الشيوعي: - تحطيم حدار برلين - انعقاد قمة مالطا وإعلان نهاية الحرب الباردة رسميا في مؤتمر باريس - توحيد الألمانيتين - حل منظمة الكوميكون - حل حلف وارسو - مؤتمر آلتا و ظهور مجموعة الدول المستقلة - حل الاتحاد السوفياتي و ظهور روسيا</p>	الوضعية الادماجية

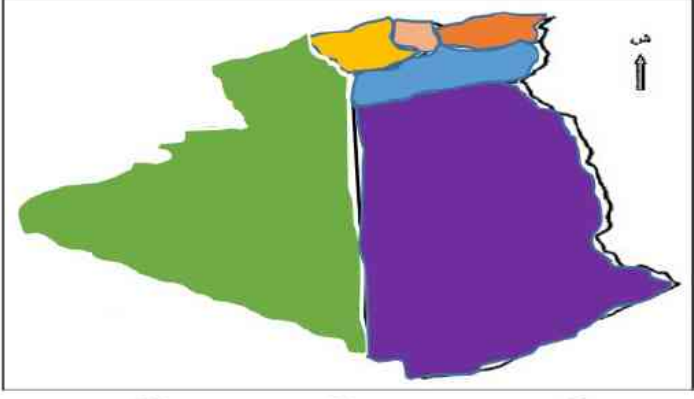
0.5	2- ملامح النظام الدولي الجدي :- انخيار الاتحاد السوفياتي وزوال الثنائية القطبية - انفراد الولايات المتحدة الأمريكية بقيادة العالم - تهميش المنظمات الإقليمية والعالمية - تهميش دور روسيا في القضايا الدولية - غزو العديد من المناطق في العالم - الدعم اللامتناهي لإسرائيل الخاتمة : نظام أحادية القطبية
-----	--

العلامة		عناصر الإجابة (الموضوع الأول) (الجغرافيا)	محاور الموضوع																						
المجموع	مجزأة																								
02	0.5	الشراكة : تعاون بين أطراف لها أهداف مشتركة ويؤسس هذا التعاون على اتفاقات تحدد أهداف الشراكة ومجالاتها وتحفظ لكل طرف مصالحه وتلبي احتياجاته و تتعلق الأمر بمبادرة أوروبية موجهة نحو بلدان أورو متوسطية منها الجزائر .	1/ تعريف ما تحت سطر في النص																						
	0.5	معاهدة روما : معاهدة موقعة في 25 مارس 1957 بروما الإيطالية من قبل فرنسا . إيطاليا . ألمانيا الغربية . بلجيكا . هولندا . لوكسمبورج . تنص على إنشاء السوق الأوروبية المشتركة ومقرها بروكسل ببلجيكا وقد انضمت إليها دول أوروبية أخرى فيما بعد .																							
	0.5	منظمة التجارة العالمية OMC : منظمة دولية تأسست سنة 1995 على أنقاض منظمة - الجات - تعمل على تحرير التجارة العالمية قصد تسهيل تدفق السلع والخدمات و تتولى فض النزاعات التجارية بين البلدان الأعضاء 151 بلدا سنة 2007 .																							
	0.5	الاستثمارات : هي توظيف الأموال لشراء المعدات والآلات والعقارات لغرض الإنتاج و قد تكون مباشرة بالتمويلات الذاتية أو بالشراكة و غير مباشرة تقوم بها الدولة .																							
02	0.25		2/ تمثيل الدول العشرة الأولى في العالم انتاجا للبنترول بواسطة أعمدة بيانية التعليق مع الاستنتاج																						
	0.5	 <p>الدول العشرة انتاجا للبنترول في العالم</p> <table border="1"> <thead> <tr> <th>الدولة</th> <th>الانتاج (ملايين برميل يوميا)</th> </tr> </thead> <tbody> <tr> <td>السعودية</td> <td>10,78</td> </tr> <tr> <td>روسيا</td> <td>9,81</td> </tr> <tr> <td>الولايات المتحدة</td> <td>8,51</td> </tr> <tr> <td>إيران</td> <td>4,17</td> </tr> <tr> <td>البنزين</td> <td>3,79</td> </tr> <tr> <td>كندا</td> <td>3,35</td> </tr> <tr> <td>المملكة المتحدة</td> <td>3,18</td> </tr> <tr> <td>الإمارات</td> <td>3,04</td> </tr> <tr> <td>الكويت</td> <td>2,74</td> </tr> <tr> <td>قطر</td> <td>2,64</td> </tr> </tbody> </table>	الدولة	الانتاج (ملايين برميل يوميا)	السعودية	10,78	روسيا	9,81	الولايات المتحدة	8,51	إيران	4,17	البنزين	3,79	كندا	3,35	المملكة المتحدة	3,18	الإمارات	3,04	الكويت	2,74	قطر	2,64	
الدولة	الانتاج (ملايين برميل يوميا)																								
السعودية	10,78																								
روسيا	9,81																								
الولايات المتحدة	8,51																								
إيران	4,17																								
البنزين	3,79																								
كندا	3,35																								
المملكة المتحدة	3,18																								
الإمارات	3,04																								
الكويت	2,74																								
قطر	2,64																								
	0.5	- نلاحظ ان انتاج البنترول يتركز في منطقة الشرق الأوسط فهو يحتوي على أكبر احتياطي وهناك دول منتجة له وفي نفس الوقت مستوردة مثل الوم لأنها قوة اقتصادية كبرى																							
	0.5	- نستنتج ان للبنترول أهمية بالغة على الدول المنتجة والمصدرة له فهو : سهولة استخراجها ونقله --																							
	0.5	مادة أولية للكثير من الصناعات - مصدر دخل للكثير من الدول - كثرة مشتقاته																							
	0.5		3/ التوقيع																						





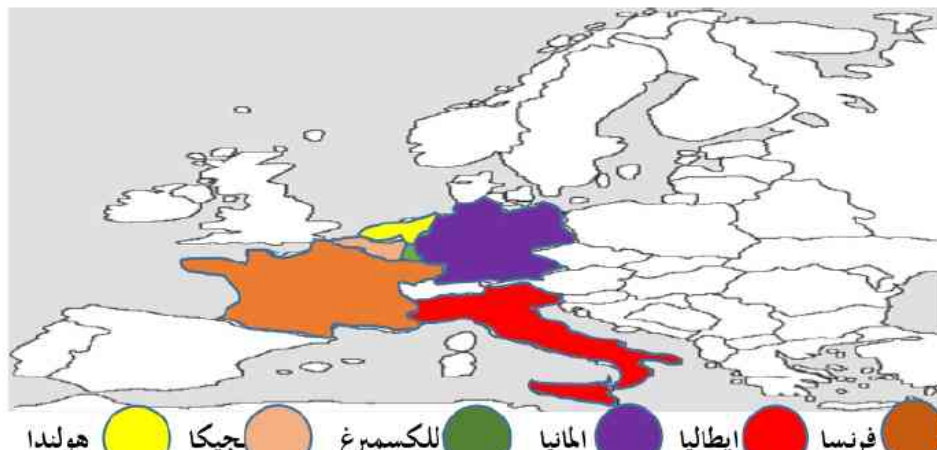
02	*		على الخريطة الدول الواردة في الجدول الايك
04			
	0.5	<p>المقدمة :التعريف بالعالم المتخلف</p> <p>1/ مظاهر التخلف للعالم الثالث في المجالين السياسي والاقتصادي:</p> <p>أ -المجال السياسي:</p> <p>-عدم الاستقرار السياسي وفقدان حرية القرار السياسي.</p> <p>-انعدام الديمقراطية.</p> <p>ب -المجال الاقتصادي:</p> <p>-سيطرة الاستثمار الأجنبي على اقتصادياتنا (أمريكا اللاتينية).</p> <p>-أحصار صادراتنا أساسا في المواد الأولية الخام وبعض المنتجات الأساسية.</p> <p>-ضعف المساهمة في القطاعات الاقتصادية (الزراعة، التجارة، الصناعة.) وضعف استفادتنا من الدخل العالمي. التخلف التكنولوجي.</p> <p>-المدىونية الكبيرة التي تتخبط فيها البلدان النامية تزيد من 2000 مليار دولار حاليا.</p>	الوضعية الادماجية
04	0.5		
	1.5		
	01	<p>2/ الحلول للخروج من ظاهرة التخلف:</p> <p>-حسن استغلال الموارد والاستثمار الأمثل للإمكانات.</p> <p>-اعتماد استراتيجيات اقتصادية واضحة الأهداف.</p> <p>-الاعتماد على الإمكانيات الذاتية والتعاون جنوب-جنوب.</p> <p>-العمل على تغيير قواعد النظام الاقتصادي العالمي القائم.</p>	
	0.5	<p>الخاتمة : الافاق المستقبلية</p>	

العلامة		عناصر الإجابة (الموضوع الثاني) (التاريخ)	محاور الموضوع
المجموع	مجزأة		
02	0.5	<p>جبهة التحرير الوطني :تنظيم سياسي ثوري وطني، ظهر في أول نوفمبر 1954 ، وهي الممثل الوحيد والشعري للشعب الجزائري، تهدف الى تحرير الجزائر من الاستعمار.</p> <p>هيئة الأمم المتحدة : هي منظمة عالمية أنشئت في 24 أكتوبر 1945، تضم أغلب دول العالم ، هدفها حفظ الأمن و السلم العالميين.</p> <p>الدبلوماسية : هي فن إدارة العلاقات الدولية ، عبر التفاوض و الحوار.</p>	1/ تعريف ما تحته سطر في النص
	0.5		

	0.5	الكفاح المسلح : هو حق أكدت عليه الجمعية العامة للأمم المتحدة في 1974 ، ينص على حق الشعوب في الكفاح المسلح حتى التحرر.											
	0.5												
02	0.5		2/ المعالم التاريخية										
	*												
	04	<table border="1"> <tr> <td>تأسيس الحكومة المؤقتة</td> <td>هجمات الشمال القسنطيني</td> <td>تأسيس اللجنة الثورية للوحدة والعمل</td> <td>انعقاد مؤتمر باندونغ</td> <td>الحدث</td> </tr> <tr> <td>-9-19 1958</td> <td>1955-08-20</td> <td>-03 -29 1954</td> <td>1955</td> <td>التاريخ</td> </tr> </table>	تأسيس الحكومة المؤقتة	هجمات الشمال القسنطيني	تأسيس اللجنة الثورية للوحدة والعمل	انعقاد مؤتمر باندونغ	الحدث	-9-19 1958	1955-08-20	-03 -29 1954	1955	التاريخ	
تأسيس الحكومة المؤقتة	هجمات الشمال القسنطيني	تأسيس اللجنة الثورية للوحدة والعمل	انعقاد مؤتمر باندونغ	الحدث									
-9-19 1958	1955-08-20	-03 -29 1954	1955	التاريخ									
02	0.5		3/ الولايات المنبثقة عن مؤتمر الصومام مع اسنادها لقادتها										
	*												
	04												
	0.5												
	04	<p>مقدمة: من بين العوامل التي ساعدت على نجاح الثورة الجزائرية وتعاضم خطرهما على الوجود الاستعماري هو الدعم الخارجي الإقليمي والدولي فعملت فرنسا على منعه أو الحد منه بمختلف الوسائل والأساليب.</p> <p>1/ الاجراءات التي قامت بها فرنسا لعزل الثورة عن الخارج:</p> <ul style="list-style-type: none"> - اتهام قوى أو دول خارجية بإثارة المشاكل في الجزائر مصر ويوغسلافيا- . - الأسلاك الشائكة المكهربة على الحدود مع المغرب وتونس - الدعاية الإعلامية لتظليل الرأي العام الفرنسي والعالمي حول مغزى الثورة . - المشاركة في العدوان الثلاثي على مصر 1956 - قصف ساقية سيدي يوسف التونسية 1958 - المناورات السياسية والديبلوماسية لتحديد المواقف الدولية من القضية الجزائرية ومنع تدويلها(النشاط الديبلوماسي،- الانسحاب من اجتماعات الجمعية العامة للأمم المتحدة)... <p>2/ رد فعل الثورة الجزائرية على هذه الاجراءات:</p> <ul style="list-style-type: none"> - تكثيف النشاط الديبلوماسي للتعريف بالقضية الجزائرية في المحافل الدولية(مؤتمر بان دونغ 1955 ، الأمم المتحدة.) 	الوضعية الادماجية										
	1.5												
	1.5												

0.5	<p>-النشاط الإعلامي لتفنيذ الدعاية الفرنسية وتأكيذ شرعية الثورة (إذاعة صوت الجزائر جريدة المجاهد-...) -المشاركة في المهرجانات العالمية (رياضية، ثقافي .) -إنشاء الحكومة المؤقتة للجمهورية الجزائرية 1958 - إنشاء جيش الحدود للتكفل بجلب الأسلحة والمؤونة من الخارج . إنشاء فدرالية جبهة التحرير في فرنسا(تعبئة المهاجرين لدعم الثورة- .)</p> <p>خاتمة :استطاعت الثورة التحريرية أن تجابه الاستراتيجيات الفرنسية على مختلف الأصعدة والمستويات وتحقق هدفها في تخليص الجزائر من السيطرة الاستعمارية.</p>
-----	--

العلامة	عناصر الإجابة (الموضوع الثاني)		محااور الموضوع
	مجزأة	(الجغرافيا)	
02	0.5 0.5 0.5 0.5	<p>الوزن الديمغرافي : القوة البشرية التي تمثل طاقة إنتاجية واستهلاكية كما هو الحال في شرق وجنوب شرق آسيا ثلث سكان العالم</p> <p>الاقتصاد الرأسمالي :الاقتصاد الليبرالي (الحر)المرتكز على الملكية الخاصة لوسائل الإنتاج والمنافسة الحرة والمبادرة الفردية.</p> <p>قطب اقتصادي :منطقة تمثل قوة اقتصادية مؤثرة فاعلة في الاقتصاد العالمي من خلال قدرتها على جذب رؤوس الأموال، اليد العاملة والمواد الاولية والتكنولوجيا.</p> <p>الدول الصناعية الجديدة: الدول الصاعدة والتي كانت ضمن العالم الثالث وعرفت ثورات صناعية حديثة وطفرة تكنولوجية مثل دول التينبات</p>	1/ تعريف ما تحته سطر في النص
02	0.75 0.75 0.5	<p>صادرات الاتحاد الاوروبي</p>  <p>واردات الاتحاد الاوروبي</p>  <p>نلاحظ ان الاتحاد الأوروبي يصدر بكثرة المواد المصنعة والنصف مصنعة والمواد الغذائية بكثرة ويستورد المواد الأولية بكثرة خاصة الطاقة</p> <p>نستنتج من هذا ان الاتحاد الأوروبي قوة اقتصادية كبرى وهذا يتجلى من خلال قاعدته الصناعية التحويلية واحتلاله للمراتب الأولى في الزراعة</p>	2/ تمثيل البياني الدائرة النسبية التعليق مع الاستنتاج

02	0.33 * 6		/3 التوقع على الخريطة الدول المؤسسة للاتحاد الاوروبي
04	0.5 01 02 0.5	<p>المقدمة: التعريف بمنطقة شرق وجنوب شرق اسيا</p> <p>1/ مميزات المنطقة طبيعيا : تتميز بما يلي</p> <ul style="list-style-type: none"> ✓ اتساع المساحة وطول الشريط الساحلي , وموقعها الجغرافي الاستراتيجي . ✓ طغيان الطابع الجلي على سطحها, وتعرضها للكوارث الطبيعية كالزلازل والبراكين والتسونامي... ✓ يغلب على المنطقة مناخين: مناخ شبه مداري رطب, ومناخ موسمي . <p>2 - مكانة المنطقة في الاقتصاد العالمي.</p> <ul style="list-style-type: none"> - إن اليابان تمثل القوة الاقتصادية الثانية بعد الو م أ - امتلاكها 7 من اكبر 10 بنوك في العالم - احتلال دول المنطقة المراتب الأولى في العديد من الصناعات (كوريا الجنوبية المرتبة 1 و اليابان 2 في إنتاج السفن عالميا) - تحول الصين إلى سادس قوة صناعية في العالم. - احتكار للمنطقة 24 % من حجم المبادلات التجارية العالمية (10% لليابان) وهي اكبر مستهلك للمواد الأولية. - الاندماج الكبير لإقتصاد المنطقة في منظومة الإقتصاد العالمي. - تحقيق موازينها التجارية لفائض كبير في اغلب السنوات و استحوادها على 35 % من الناتج العالمي الخام - كثرة فروع شركات دول المنطقة في كل العالم (خاصة اليابانية والصينية). - استحوادها على ربع الثروة العالمية واستقطابها للاستثمارات العالمية مع وجود اكبر البورصات (طوكيو 2 عالميا) - تحول الصين إلى عملاق إقتصادي بدليل احتلالها للمرتبة 4 عالميا في استقطاب الاستثمارات الخارجية و 5 في التصدير - تحول المنطقة إلى ملتقى للطرق التجارية العالمية وغزو سلعتها لأسواق الدول الكبرى - وجود الهياكل القاعدية به - وجود مراكز البحث العلمي والتكنولوجي <p>الخاتمة : استخلاص سر نجاح المنطقة</p>	الوضعية الادماجية